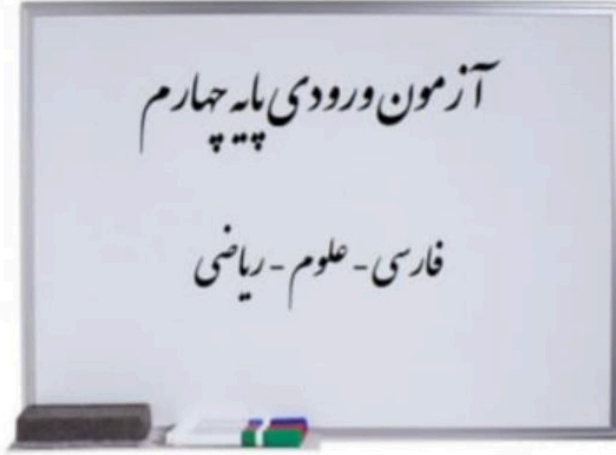


بِسْمِ اللَّهِ الرَّحْمَنِ الرَّحِيمِ



نام و نام خانوادگی: .....

تعداد سوالات: ۳۰ سوال

مدت زمان پاسخگویی: ۶۰ دقیقه

## فارسی



۱- در جمله ی زیر به جای «مهدی»، کدام گزینه ی زیر را می توان به کار برد؟

«مهدی دیروز به کتاب خانۀ رفت.»

الف) آن (ب) او (ج) ما (د) تو

۲- به کدام گروه از کلمات اگر «سر» اضافه شود، معنای درستی پیدا می کنند؟

الف) بند، طرف، دار (ب) کار، زمین، سبز (ج) خوش، تازه، درد (د) دار، بلند، متن

۳- کدام کلمه درست نوشته شده است؟

الف) بچه گی (ب) زنده گانی (ج) آلوده گی (د) رانندگان

۴- در کدام گزینه، کلمه ها هم خانواده هستند؟

الف) حوصله، محصول (ب) حاتم، محترم (ج) علم، معلم (د) کشت، کاشت

۵- به آخر کدام کلمه نمی توان «ای» اضافه کرد؟

الف) ماه (ب) قهوه (ج) ترانه (د) خانه

۶- اگر کلمات زیر را به ترتیب حروف الفبا مرتب کنیم، کدام کلمه آخر می آید؟

( لامب - محله - مواظبت - حوض )

الف) لامب (ب) محله (ج) مواظبت (د) حوض

۷- کدام کلمه جمع نیست؟

الف) ستارگان (ب) باران (ج) دست ها (د) اطلاعات

۸- کدام یک از جمله های زیر مربوط به زمان آینده است؟

الف) سامان دانش آموز خوبی است.      ب) پدرم با مهربانی به من درس می دهد.

ج) محمد حسین فهمیده پسری ۱۳ ساله بود.      د) در دی ماه بارش برف و باران زیاد خواهد بود.

۹- اگر کلمات در هم ریخته ی زیر را مرتب کنیم و یک جمله بسازیم، اولین و آخرین کلمه به ترتیب کدام خواهد بود؟

**دوست - ما - ایران - باید - باشیم - را - داشته**

الف) ایران - باشیم      ب) ما - ایران      ج) ما - باشیم      د) باشیم - ما

۱۰- در کدام گزینه، معنی کلمه اشتباه نوشته شده است؟

الف) نگران: بیمار      ب) عظمت: بزرگی      ج) باعث: سبب      د) ماهرانه: استادانه



۱- به موادی که شکل ثابتی ندارند و شکل ظرف را به خود می گیرند، چه می گویند؟

الف) جامد      ب) مایع      ج) گاز      د) بخار

۲- اگر روی یک کلوچه نوشته شود: جرم ۷۰۰ ..... کلمه ی مناسب برای جای خالی چیست؟

الف) گرم      ب) کیلوگرم      ج) لیتر      د) ترازو

۳- دو لیوان کاملاً هم اندازه داریم. یکی را با آب و دیگری را با عسل پر کردیم. در مورد حجم و جرم این ماده چه می توان گفت؟

الف) حجم ها برابر - جرم آب بیشتر از عسل است

ب) حجم ها برابر - جرم عسل بیشتر از آب است

ج) جرم ها برابر - حجم آب از عسل بیشتر است

د) جرم ها برابر - حجم عسل از آب بیشتر است

۴- در کدام آینه، اندازه ی تصاویر اجسام برابر با اندازه ی جسم است؟

الف) آینه ی آرایشگاه      ب) آینه ی دندانپزشکی      ج) آینه ی سر پیچ جاده      د) آینه ی پشت چراغ ماشین

۵- مادر مریم مقداری سبزی را در آفتاب گذاشت تا خشک شود. به نظر شما چه تغییر حالتی صورت گرفته است؟

الف) ذوب      ب) انجماد      ج) تبخیر      د) میعان

۶- کدام گزینه در مورد هل دادن یا کشیدن نادرست می باشد؟

- الف) کندن یک میوه از درخت : «کشیدن»  
ب) فوت کردن شمع : «هل دادن»  
ج) مسابقه طناب کشی: «هل دادن و کشیدن»  
د) بستن زیپ کاپشن : «کشیدن»

۷- کدام یک از دانه های زیر، دو قسمتی نیست؟

- الف) لوبیا      ب) ذرت      ج) نخود      د) بادام

۸- کدام یک از جانوران زیر پستاندار نمی باشد؟

- الف) پنگوئن      ب) وال      ج) خفاش      د) کانگورو

۹- با توجه به گروه «پرندگان»، کدام یک از گزینه های زیر صحیح می باشد؟

- الف) پوشش بدن آن ها از پولک می باشد.  
ب) پرندگان تخم گذار هستند.  
ج) تنفس آن ها با آبشش می باشد.  
د) همه موارد صحیح است.

۱۰- در کدام گزینه مواد نگه دارنده وجود ندارد؟

- الف) میوه ها      ب) کنسروها      ج) کمپوت ها      د) آب میوه های صنعتی



۱- کامران می خواهد کتابی که ۱۵۰ صفحه دارد را بخواند. اگر او روزی ۳۰ صفحه از کتاب را بخواند، مطالعه ی کتاب کامران چند روز طول می کشد؟

الف) ۳ روز      ب) ۴ روز      ج) ۵ روز      د) ۶ روز

۲- سامیار و خانواده اش ساعت ۵ و نیم بعدازظهر به سینما رفتند و ساعت ۲۰:۳۰ از سینما خارج شدند. مدت این فیلم چقدر بوده است؟

الف) ۱ ساعت و نیم      ب) ۲ ساعت      ج) ۲ ساعت و نیم      د) ۳ ساعت

۳- جرم یک مرغ ۴ کیلوگرم و ۵۰۰ گرم و جرم یک جوجه ۲ کیلوگرم و ۴۰۰ گرم کمتر از مرغ است. جرم جوجه چند است؟

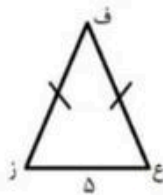
الف) ۲۱۰۰ گرم      ب) ۲ کیلوگرم و ۹۰۰ گرم      ج) ۲۴۰۰ گرم      د) ۱ کیلوگرم و ۹۰۰ گرم

۴- اعداد ۷۳۳۹ و ۲۵۵۵ را ابتدا با حذف یکان و دهگان تقریب زدیم و سپس از هم کم کردیم. حاصل چند می باشد؟

الف) ۴۷۰۰      ب) ۴۸۰۰      ج) ۴۹۰۰      د) ۹۸۰۰

۵- محیط مثلث مقابل ۲۳ سانتی متر است. اندازه ضلع «ز» چند سانتی متر است؟

الف) ۸      ب) ۹      ج) ۱۰      د) ۱۸



۶- اگر ۶ برابر عدد ۴ را با ۸ جمع کنیم، حاصل چند تا کمتر از ۴ دسته ی ۱۰ تایی خواهد بود؟

الف) ۴      ب) ۶      ج) ۸      د) ۱۶

۷- حاصل کدام یک از عبارات زیر بیشتر از بقیه می باشد؟

الف)  $(6 \times 3) - (6 \times 10)$       ب)  $(4 \times 6) - (9 \times 3)$

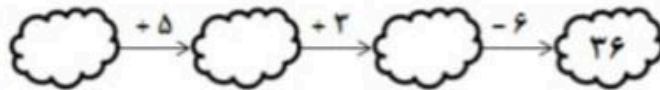
ج)  $(3 \times 8) + (6 \times 2)$       د)  $(4 \times 5) + (4 \times 7)$

۸- ۴۲ شکلات داریم و می خواهیم بین ۸ نفر تقسیم کنیم. به هر نفر به ترتیب چند شکلات می رسد و چند شکلات باقی می ماند؟

الف) ۵ تا میرسد و ۲ تا باقی می ماند      ب) ۴ تا می رسد و ۵ تا باقی می ماند

ج) ۵ تا می رسد و ۳ تا باقی می ماند      د) ۶ تا می رسد و ۴ تا باقی می ماند

۹- در ابر اول چه عددی بنویسیم تا بعد از انجام عملیات خواسته شده به ۳۶ برسیم؟



الف) ۳۴      ب) ۳۶      ج) ۳۸      د) ۴۲

۱۰- امیرمهدی ۴ دسته ی ۱۲ تایی و امیرعلی ۶ دسته ی ۹ تایی شکلات دارند. این دو روی هم چند شکلات دارند؟

الف) ۹۳      ب) ۱۰۰      ج) ۱۰۲      د) ۱۰۴

تعداد پاسخ صحیح	درس
	فازسی
	علوم
	ریاضی
	مجموع